





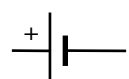
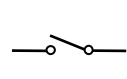

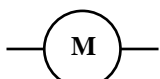
**Après avoir réalisé l'expérience,**

**tu devras la représenter sous la**

**forme d'un dessin ou d'un schéma**

**(au crayon à papier)**



 ampèremètre	 alimentation	 interrupteur	 ampoule	 moteur
--	---	---	--	---

Un schéma est composé uniquement de symboles.

Tous les fils sont représentés par un trait horizontal ou vertical.